

सत्र - 2021-22

आदर्श प्रश्न-पत्र

कक्षा-9

विषय - गणित

समय :- 3 घण्टा 15 मिनट

पूर्णांक - 70

निर्देश :- प्रारम्भ के 15 मिनट परीक्षार्थियों को प्रश्न पत्र पढ़ने का लिये निर्धारित है।

नोट –

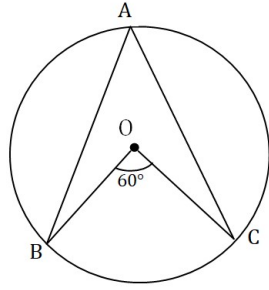
- (i) इस प्रश्न पत्र के दो खण्ड हैं।
- (ii) खण्ड 'अ' में 20 अंक के 20 प्रश्न बहुविकल्पीय हैं।
- (iii) प्रत्येक प्रश्न अनिवार्य है।
- (iv) दूसरा खण्ड 'ब' में 50 अंक के वर्णनात्मक प्रश्न हैं।
- (v) इस खण्ड में कुल 5 प्रश्न हैं।
- (vi) प्रत्येक प्रश्न के प्रारम्भ में स्पष्टतः लिख दिया गया है कि उसके कितने खण्ड करने हैं।
- (vii) प्रश्नों के अंक उनके सम्मुख अंकित हैं।
- (viii) प्रथम प्रश्न से आरम्भ कीजिए और अन्त तक करते जाइए। जो प्रश्न न आता हो, उस पर समय नष्ट मत कीजिए।

## खण्ड 'अ'

बहुविकल्पीय प्रश्न

- (1) किन्हीं दो परिमेय संख्याओं के बीच संख्या हो सकती हैं - 1
- केवल एक परिमेय संख्या
  - अपरिमित अनेक परिमेय संख्या
  - अनेक अपरिमेय संख्या
  - केवल एक अपरिमेय संख्या
- (2) निम्न व्यंजकों में कौन सा बहुपद होगा - 1
- $\sqrt{2x} - 1$
  - $y + \frac{2}{y}$
  - $4x^2 - 3x + 7$
  - $3\sqrt{x} + x\sqrt{2}$
- (3) बहुपद  $p(x) = -9x + 9$  का शून्यक होगा - 1
- 0
  - 9
  - 1
  - 1
- (4) व्यंजन  $(3 + \sqrt{3})(3 - \sqrt{3})$  का मान होगा - 1
- $3 - \sqrt{3}$
  - $\sqrt{3}$
  - 6
  - $3 + \sqrt{3}$
- (5) यदि किसी गोले की त्रिज्या  $2r$  हो तो उसका आयतन होगा - 1
- $\frac{4}{3}\pi r^3$
  - $4\pi r^3$
  - $\frac{8}{3}\pi r^3$
  - $\frac{32}{3}\pi r^3$

(6) दिये हुए चित्र में,  $\angle BOC = 60^\circ$  है तो  $\angle BAC$  का मान होगा - 1



- a)  $30^\circ$                       b)  $60^\circ$   
c)  $45^\circ$                       d)  $120^\circ$

(7)  $16^{\frac{3}{4}}$  का मान होगा - 1

- a) 8                      b) 2                      c) 16                      d) 4

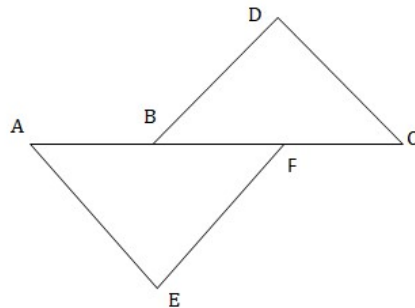
(8) बहुपद  $y^{97} + 97$  को  $y + 1$  से भाग देने पर शेषफल होगा - 1

- a) 0                      b) 1                      c) 96                      d) 95

(9)  $\frac{36}{100}$  का दशमलव प्रसार है - 1

- a) असांत दशमलव  
b) सांत दशमलव  
c) अनवसानी अनावर्ती  
d) अनवसानी आवर्ती

(10) दिये गये चित्र से,  $AB = CF$ ,  $EF = BD$  और  $\angle AFE = \angle DBC$  हो तो  $\triangle AFE$  और  $\triangle CBD$  किस सर्वांगसमता अभिगृहित के अनुसार सर्वांगसम होंगे। 1



- a) SSS                      b) AAA  
c) ASA                      d) SAS

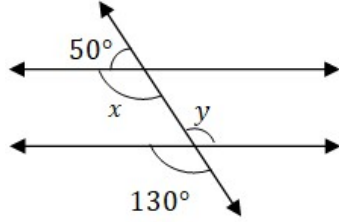
(11)  $99^2 - 98^2$  का मान होगा - 1

- a) 1                      b) 197                      c) 187                      d) 207

(12) बहुपद  $x^5 - x^4 + 3$  की घात होगा - 1

- a) 4                      b) 2                      c) 1                      d) 5

(13) दिये गये चित्र में,  $x$  और  $y$  का मान ज्ञात कीजिए। 1



- a)  $(50^\circ, 130^\circ)$       b)  $(130^\circ, 130^\circ)$

- c)  $(60^\circ, 120^\circ)$       d)  $(120^\circ, 60^\circ)$

(14)  $6x^2 + 11x + 3$  का गुणनखण्ड होगा - 1

- a)  $(3x + 1)(2x + 3)$   
b)  $(x + 1)(2x + 3)$   
c)  $(x + 3)(2x + 1)$   
d)  $(3x + 3)(x + 1)$

(15) यदि  $(x + 1)$ ,  $3x^2 + 2x - K$  का एक गुणनखण्ड है तो  $K$  का मान होगा - 1

- a) -1  
b) 1  
c) 0  
d) इनमें से कोई नहीं।

(16) यदि किसी रैखिक समीकरण  $2x + 3y = K$  का हल  $(2, 0)$  है तो  $K$  का मान होगा - 1

- a) 4                      b) 6                      c) 5                      d) 2

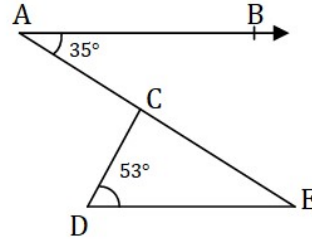
- (17) रैखिक समीकरण  $y = 3x + 5$  का 1
- a) एक अद्वितीय हल है।  
b) केवल दो हल हैं।  
c) अपरिमित रूप से अनेक हल हैं।  
d) उपरोक्त में से कोई नहीं।
- (18) यदि किसी शंकु की त्रिज्या 4 सेमी० और तिर्यक ऊँचाई 5 सेमी० है तो इसका आयतन होगा - 1
- a)  $16\pi$  सेमी०<sup>3</sup>    b)  $14\pi$  सेमी०<sup>3</sup>    c)  $12\pi$  सेमी०<sup>3</sup>    d)  $18\pi$  सेमी०<sup>3</sup>
- (19) यदि  $P(E) = 0.37$  हो तो  $P(\bar{E})$  होगा - 1
- a) 0.37    b) 0.63  
c) 0.57    d) इनमें से कोई नहीं
- (20) एक सिक्के को 50 बार उछाला जाता है तथा 25 बार चित की प्राप्ति होती है। इस घटना की प्रायिकता होगी - 1
- a) 1    b)  $\frac{1}{2}$     c) 2    d) 0

### खण्ड 'ब'

1. निम्नलिखित में से किन्हीं पाँच खण्डों को हल कीजिए -
- (क) परिमेय संख्याओं  $\frac{5}{7}$  और  $\frac{9}{11}$  के बीच की चार अलग-अलग अपरिमेय संख्याएँ ज्ञात कीजिए। 2
- (ख)  $\frac{11^{\frac{1}{2}}}{11^{\frac{1}{4}}}$  को सरल कीजिए। 2
- (ग)  $\triangle ABC$  में  $\angle A$  का समद्विभाजक AD भुजा BC पर लम्ब है। दर्शाएँ कि  $AB=AC$  है और  $\triangle ABC$  समद्विबाहु है। 2

- (घ) दिये गये चित्र में, यदि  $AB \parallel DE$ ,  $\angle BAC = 35^\circ$  और  $\angle CDE = 53^\circ$  है, तो  $\angle DCE$  ज्ञात कीजिए।

2



- (ङ) एक क्रिकेट मैच में, एक महिला बल्लेबाज खेती गई 30 गेंदों में 6 बार चौका मारती है। चौका न मारे जाने की प्रायिकता ज्ञात कीजिए।
- (च) दो सिक्कों को एक साथ 500 बार उछालने पर, दो चित 105 बार तथा एक चित 275 बार प्राप्त होता है। इन घटनाओं के घटने की प्रायिकता ज्ञात कीजिए।

2

2

2. निम्नलिखित में से किन्हीं तीन खण्डों को हल कीजिए –

- (क)  $\frac{3}{7+3\sqrt{2}}$  के हर का परिमेयकरण कीजिए।
- (ख)  $3x^4 - 4x^3 - 3x - 1$  को  $(x - 1)$  से भाग देने पर प्राप्त शेषफल ज्ञात कीजिए।
- (ग) समीकरण  $2x + 1 = x - 3$  को हल कीजिए और हल को कार्तीय तल पर निरूपित कीजिए।
- (घ) उपयुक्त सर्वसमिका का प्रयोग करके  $(102)^3$  का मान ज्ञात कीजिए।

4

4

4

4

3. निम्नलिखित में से किन्हीं तीन खण्डों को हल कीजिए –

(क) ABCD एक चक्रीय चतुर्भुज है जिसके विकर्ण एक बिन्दु E पर प्रतिच्छेद करते हैं। यदि  $\angle DBC=70^\circ$  और  $\angle BAC=30^\circ$  हो, तो  $\angle BCD$  ज्ञात कीजिए। पुनः यदि  $AB=BC$  हो, तो  $\angle ECD$  ज्ञात कीजिए। 4

(ख) यदि एक वृत्त की दो समान जीवाएँ वृत्त के अन्दर प्रतिच्छेद करें, तो सिद्ध कीजिए कि प्रतिच्छेद बिन्दु को केन्द्र से मिलाने वाली रेखा जीवाओं से बराबर कोण बनाती है। 4

(ग) एक त्रिभुज की भुजाओं का अनुपात 12:17:25 है और उसका परिमाण 540 सेमी<sup>०</sup> है। इस त्रिभुज का क्षेत्रफल ज्ञात कीजिए। 4

(घ) यदि दो वृत्त परस्पर दो बिन्दुओं पर प्रतिच्छेद करें, तो सिद्ध कीजिए कि उनके केन्द्र उभयनिष्ठ जीवा के लम्ब समद्विभाजक पर स्थित है। 4

4. निम्नलिखित में से किसी एक खण्ड को हल कीजिए –

(क) गुणनखंड प्रमेय का प्रयोग करके  $x^3 - 23x^2 + 142x - 120$  का गुणनखंड कीजिए। 8

(ख) उपयुक्त सर्वसमिका का प्रयोग करके  $(-2x + 5y - 3z)^2$  का प्रसार कीजिए। 8

5. निम्नलिखित में से किसी एक खण्ड को हल कीजिए –

(क) एक अर्धगोलाकार टंकी 1 सेमी<sup>०</sup> मोटी एक लोहे की चादर (sheet) से बनी है। यदि इसकी आंतरिक त्रिज्या 1 मी<sup>०</sup> है, तो इस टंकी के बनाने में लगे लोहे का आयतन ज्ञात कीजिए। 8

(ख) भुजाओं 5 सेमी०, 12 सेमी० और 13 सेमी० वाले एक समकोण त्रिभुज ABC को भुजा 12 सेमी० के परितः घुमाया जाता है। इस प्रकार प्राप्त ठोस का आयतन ज्ञात कीजिए। यदि 5 सेमी० भुजा के परितः घुमाया जाता है तो बने ठोस का आयतन भी ज्ञात कीजिए तथा दोनों ठोसों के आयतनों का अनुपात भी ज्ञात कीजिए।